

В СТРАНЕ ЗНАЦИ МАТЕМАТИКИ

Математики



Яблочки

Яблоки в саду поспели,
Мы отведать их успели
Пять румяных, наливных,
Два с кислинкой.
Сколько их?

7

8

3





Посчитайте в порядке их увеличения, уменьшения чисел. Как можно назвать все фигуры?

Математическая разминка

К трем зайчатам в час
обеда

Прискакали три соседа.

В огороде зайцы сели

И по семь морковок съели.


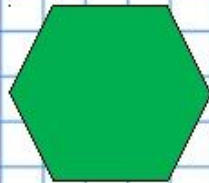
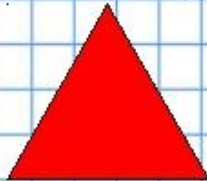

Кто считать, ребята,
ловок?

Сколько съедено
морковок?



МАТЕМАТИЧЕСКАЯ РАЗМИНКА

Назови геометрические фигуры



Какие числа пропущены?

1 2 ● 4 ● 5 6 7 ● 9 ● 11 ● 13 14 ● 16 17 ● 19 20

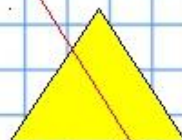
Реши задачу

1



--- ?

2



--- ?

СРАВНЕНИЕ



ГДЕ КВАДРАТОВ МЕНЬШЕ?

igravsadu.ru & vneuroka.ru

■			■
■	■	■	■
	■	■	



>

■	■	■	■
		■	■
			■




НА ПРАВОЙ КАРТИНКЕ



Из каких геометрических фигур состоит
солнышко? Цыплёнок?



Какая фигура лишняя?



Игра «НАЗОВИ СОСЕДЕЙ ЧИСЛА»

Цель: Закрепление понятий «предыдущее» и «последующее» число, «соседи числа».

Средства обучения: цифры на карточках.

Содержание игры: предлагается показать с помощью карточки соседей указанных чисел.

3

4

5

7

8

9

5

6

7

Порядковый счёт



1



2



3



4





5



6

Соотнеси число с цифрой и поставь
по порядку





В математике вместо слова «*больше*» между числами ставят знак « $>$ », а вместо слова «*меньше*» – знак « $<$ ».



Уголок знака всегда указывает на меньшее число.



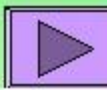
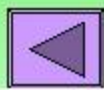
Какой по счёту (слева направо) котёнок?
Петушок? Медвежонок?



КТО ЕСТЬ КТО?



Это Маша, Марфуша и Матреша.
Маша с бантиком.
У Матрёши платье в горошек.
А слева от Марфуши стоит Маша.





СПАСИБО ЗА ВНИМАНИЕ!!!

